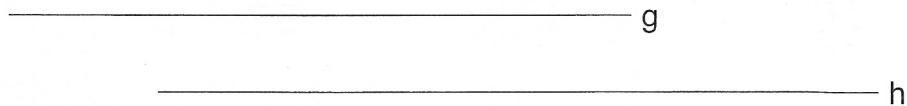


Name:

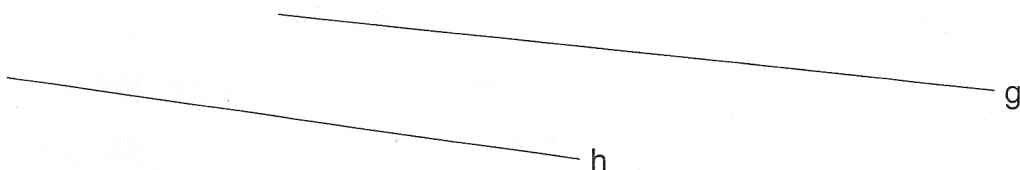
Klasse:

Datum:

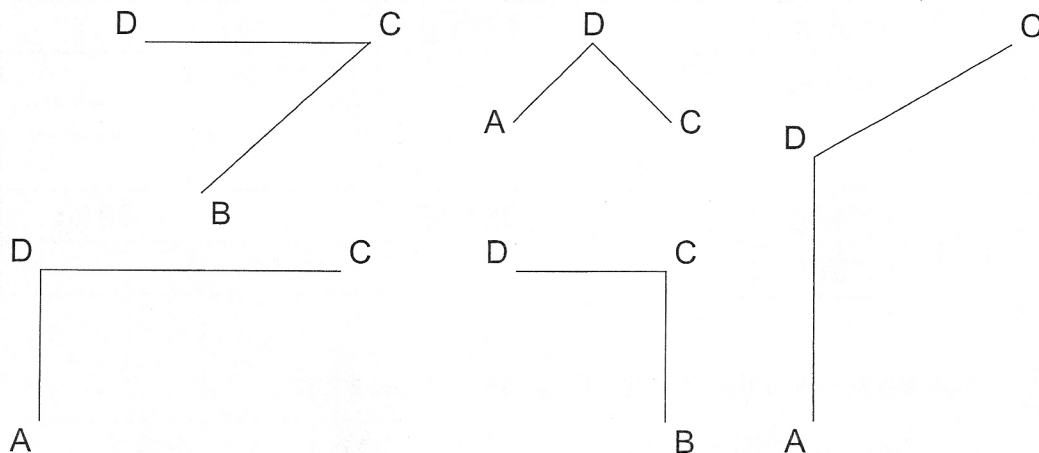
- 1 a) Zeichne zwei Geraden e und f so ein, dass sie zu den Geraden g und h senkrecht sind. Kennzeichne die rechten Winkel.



- b) Zeichne zwei Geraden e und f so ein, dass sie zu den Geraden g und h parallel sind.



- 2 a) Zeichne zu den Strecken der Figuren parallele Strecken so ein, dass Vierecke entstehen. Kennzeichne jeweils den vierten Punkt mit einem Buchstaben.
 b) Zeichne die Vierecke, die Quadrate sind, rot nach.
 c) Zeichne die Vierecke, die Rechtecke sind, blau nach.
 d) Kennzeichne alle rechten Winkel in den Vierecken.



- 3 Erfinde ein Muster mit Linien, die senkrecht oder parallel zueinander sind.

